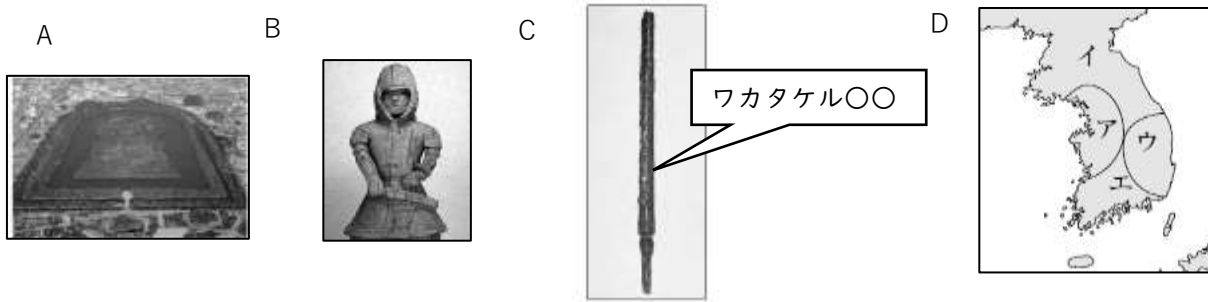


古墳時代～飛鳥時代



1	土を盛り上げて築いた、天皇や豪族などの有力者の墓のことは？	1	古墳
2	世界遺産に認定された大阪府堺市にある日本最大の1は（写真A）？	2	ダイセン 大仙(山)古墳
3	1のまわりに置かれた、Bのことを？	3	はにわ
4	Aのような大規模な古墳から、この地域の社会についてどのようなことが考えられるか【静岡】	4	巨大な権力をもった支配者が治めていた。
5	Aのような形の古墳を何というか。	5	ゼンボウコウエンファン 前方後円墳
6	Cの〇〇に入る語句を漢字で	6	大王
7	この政権を何というか。	7	大和朝廷(王権・政権)
8	Cの鉄剣は、関東地方の稲荷山古墳から出土した。このことから大和朝廷の勢力について、どのようなことが考えられるか。	8	大和政権の勢力は近畿地方だけでなく、関東地方まで及んでいた。
9	古代に、朝鮮や中国から来て日本に多くのことを伝えた人々のこと	9	渡来人
10	9が日本に伝えたものを3つ答えてみよう	10	漢字、須恵器、養蚕、土木技術、儒学、仏教などから
11	大和政権の大王は中国の皇帝に2つのことを認めてもらうために、中国へとたびたび使いを送った。認めてもらいたい2つのこととは何か。「倭」「朝鮮南部」の2つの語句を用いて説明してみよう	11	倭の王としての地位と、朝鮮南部を軍事的に指揮する権利を認めてもらうため
12	Dの地図イにあり、楽浪郡を滅ぼしたのは何という国	12	コウクリ 高句麗
13	D地図アにあり、日本に仏教を伝えたのは何という国か。	13	クダラ 百済
14	D地図ウにあり、エを滅ぼしたのは何という国か。	14	シラギ 新羅
15	日本は鉄が作れなかったため朝鮮半島から輸入していたが、D地図ア～エのどこから？	15	エ（伽倻）
16	5 C～6 Cの中国を何時代というか。	16	南北朝時代
17	その後、6世紀の末に中国を統一したのはどこ？	17	ズイ 隋
18	推古天皇を助けて政権をにぎったのは誰？	18	ショウトクタイン 聖徳太子
19	19は摂政という位についたが、その役職の内容を「天皇」の言葉を使って説明せよ。	19	摂政とは、天皇が女性であったり幼少であったりするときに置かれ、天皇の代理として政治を行う役職
20	19の人物がつくった、家柄ではなく才能によって役人を採用する制度	20	カンイ ジュウカイ 冠位十二階
21	19の人物がつくった、役人の心得を示したもの	21	ジュウナナジョウ ケンボウ 十七条の憲法
22	19の人物とともに物部氏を滅ぼしたのは誰？	22	ソガノウマコ 蘇我馬子
23	21が中国に送った遣いを？	23	ケンズイン 遣隋使

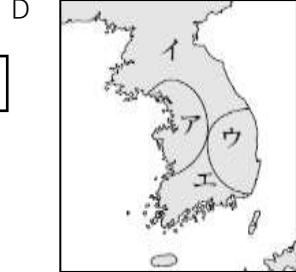

A 一に日く、和をもって貴しとなし、
さからうことなきを宗とせよ。
二に日く、あつく三宝を敬え。三
宝とは（ ）なり。
三に日く、詔をうけたまわりては、
必ずつつしめ。

B 大業3年、倭の王多利思比孤が使
いを遣わして朝貢してきた。その
使いは…倭国の国書を差し出した。
その中には「日出づる処の天子、
書を日没する処の天子にいた
す。…」と書いてあった。



24	資料Aの（ ）に入る言葉に関連する宗教は	24	仏教
25	資料Bはどここの国の文書か	25	隋
26	Bのように「日出づる処の天子、日没する処…」と19が書いたのはなぜか。	26	隋と対等な外交関係を結ぶため
27	このとき、遣隋使になった人物は誰？	27	小野妹子
28	遣隋使を派遣した目的を、25以外で答えよ。	28	隋の進んだ制度や文化を取り入れるため
29	Bの「日出づる処」日没する処…」は、それぞれどこのこと？	29	前者は日本、後者は隋
30	Cの寺院を建てた目的と寺院名を答えなさい。	30	寺院名：法隆寺 目的：仏教をさかんにするために建てた
31	Aの下線部の意味をわかりやすく説明しよう	31	天皇の命令を受けたら、必ず従えという意味
32	写真Cの建物のころの文化を何というか。	32	飛鳥文化
33	写真Dは、Cの寺の中にある仏像である。何というか。	33	シャカ、サンゾンゾウ 釈迦三尊像
34	冠位十二階の制度を「家柄」「才能や功績」の語句を使って説明せよ	34	家柄にとらわれず、才能や功績のある人物を役人に取り立てる制度
35	32の文化の特色を簡単に説明しよう	35	日本で最初の仏教文化
36	645年から始まった中央集権国家を作るための変革	36	ダイカ カイシン 大化の改新
37	ほろぼされた豪族は何氏が	37	ソガシ 蘇我氏
38	中心人物で後に藤原氏となったのは	38	ナカミノカタリ 中臣鎌足
39	中心人物で後に天皇となったのは誰	39	ナカノオエノオウジ テンジテンノウ 中大兄皇子（天智天皇）
40	彼等の方針の「公地公民」を簡単に説明できる？	40	土地や人々を天皇が直接支配すること
41	日本が百済を助けるために大軍を送り出し、新羅と唐の連合軍に敗れた戦い	41	ハクスキノエ タタカ 白村江の戦い
42	39の死後、あとつぎをめぐって起こった争い	42	ジンシン ラン 壬申の乱
43	42で勝利したのは誰？	43	オオアマノオウジ 大海人皇子
44	この人は、何天皇になる？	44	天武天皇
45	44の死後、引き継いだ皇后が即位するが、何天皇？	45	持統天皇
46	45がつくった日本初の本格的な都は？	46	藤原京

古墳時代～飛鳥時代



1	土を盛り上げて築いた、天皇や豪族などの有力者の墓のことは？	1	
2	世界遺産に認定された大阪府堺市にある日本最大の1は（写真A）？	2	
3	1のまわりに置かれた、Bのことを？	3	
4	Aのような大規模な古墳から、この地域の社会についてどのようなことが考えられるか【静岡】	4	
5	Aのような形の古墳を何というか。	5	
6	Cの〇〇に入る語句を漢字で	6	
7	この政権を何というか。	7	
8	Cの鉄剣は、関東地方の稲荷山古墳から出土した。このことから大和朝廷の勢力について、どのようなことが考えられるか。	8	
9	古代に、朝鮮や中国から来て日本に多くのことを伝えた人々のこと	9	
10	9が日本に伝えたものを3つ答えてみよう	10	
11	大和政権の大王は中国の皇帝に2つのことを認めてもらうために、中国へとたびたび使いを送った。認めてもらいたい2つのこととは何か。「倭」「朝鮮南部」の2つの語句を用いて説明してみよう	11	
12	Dの地図イにあり、楽浪郡を滅ぼしたのは何という国	12	
13	D地図アにあり、日本に仏教を伝えたのは何という国か。	13	
14	D地図ウにあり、エを滅ぼしたのは何という国か。	14	
15	日本は鉄が作れなかったので朝鮮半島から輸入していたが、D地図ア～エのどこから？	15	
16	5 C～6 Cの中国を何時代というか。	16	
17	その後、6世紀の末に中国を統一したのはどこ？	17	
18	推古天皇を助けて政権をにぎったのは誰？	18	
19	19は摂政という位についたが、その役職の内容を「天皇」の言葉を使って説明せよ。	19	
20	19の人物がつくった、家柄ではなく才能によって役人を採用する制度	20	
21	19の人物がつくった、役人の心得を示したもの	21	
22	19の人物とともに物部氏を滅ぼしたのは誰？	22	
23	21が中国に送った遣いを？	23	

A 一に日く、和をもって貴しとなし、さからうことなきを宗とせよ。
 二に日く、あつく三宝を敬え。三宝とは（ ）なり。
 三に日く、詔をうけたまわりて

B 大業3年、倭の王多利思比孤が使いを遣わして朝貢してきた。その使いは…倭国の国書を差し出した。その中には「日出づる処の天子、書を日没する処の天子にいたす。…」と書いてあった。



24	資料Aの（ ）に入る言葉に関連する宗教は	24	
25	資料Bはどこの国の文書か	25	
26	Bのように「日出づる処の天子、日没する処…」と19が書いたのはなぜか。	26	
27	このとき、遣隋使になった人物は誰？	27	
28	遣隋使を派遣した目的を、25以外で答えよ。	28	
29	Bの「日出づる処」日没する処…」は、それぞれどこのこと？	29	
30	Cの寺院を建てた目的と寺院名を答えなさい。	30	
31	Aの下線部の意味をわかりやすく説明しよう	31	
32	写真Cの建物のころの文化を何というか。	32	
33	写真Dは、Cの寺の中にある仏像である。何というか。	33	
34	冠位十二階の制度を「家柄」「才能や功績」の語句を使って説明せよ	34	
35	32の文化の特色を簡単に説明しよう	35	
36	645年から始まった中央集権国家を作るための変革	36	
37	ほろぼされた豪族は何氏か	37	
38	中心人物で後に藤原氏となったのは	38	
39	中心人物で後に天皇となったのは誰	39	
40	彼等の方針の「公地公民」を簡単に説明できる？	40	
41	日本が百済を助けるために大軍を送り出し、新羅と唐の連合軍に敗れた戦い	41	
42	39の死後、あとつぎをめぐって起こった争い	42	
43	42で勝利したのは誰？	43	
44	この人は、何天皇になる？	44	
45	44の死後、引き継いだ皇后が即位するが、何天皇？	45	
46	45がつくった日本初の本格的な都は？	46	