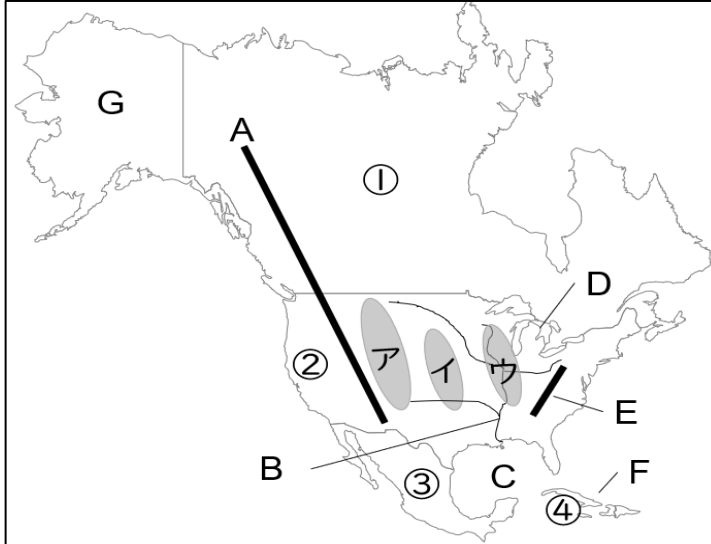


1 自然・歴史・各国

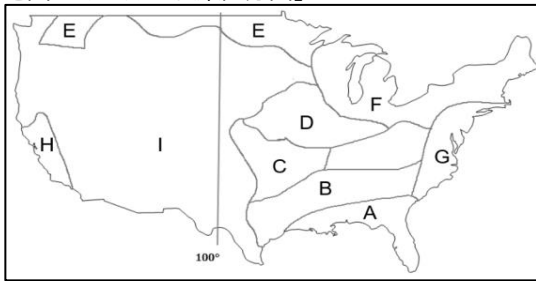


①	カナダ	
②	アメリカ合衆国	
③	メキシコ	
④	キューバ	
A	ロッキー	山脈
B	ミシシッピ	川
C	メキシコ	湾
D	五大	湖
E	アパラチア	山脈
F	西インド	諸島
G	アラスカ	半島
ア	グレートプレーリー	
イ	プレーリー	
ウ	中央平原	
4	フランス語	
5	2位	
6	オタワ	
7	アングロアメリカ	
8	スペイン語	
9	NAFTA	
10	ネイティブアメリカン	
11	イヌイット	
12	50州	
13	ワシントンD.C.	
14	第3位	
15	第3位	
16	冷帯	
17	ハリケーン	
18	奴隷として使うため	
19	ヒスパニック	
18	高い賃金と働く場所を求めて	
19	多民族国家	
20	キリスト教	

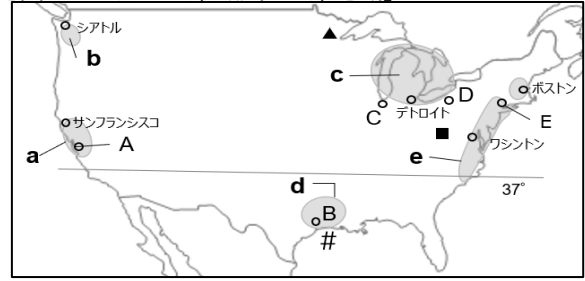
- 1 ①～④の国名
- 2 地形A～G
- 3 ア～ウの名称
- 4 ①国の公用語は英語と何語？
- 5 ①国の面積は世界第何位？
- 6 ①国の首都はどこ？
- 7 ①と②の地域を何アメリカという？
- 8 ③や④の国では主に何語が話されている？
- 7 ①②③の国の間で結ばれた北米自由協定の略称は？
- 8 北米の先住民をなんというか
- 9 アラスカ先住民をなんという？
- 10 ②国の現在の州はいくつ？
- 11 ②国の首都はどこ？
- 12 ②国の面積は世界第何位？
- 13 ②国の人口は世界第何位？
- 14 ①の国の大部分を占めている気候は？
- 15 カリブ海で発生する大型熱帯低気圧
- 16 黒人は、何の目的でアフリカから連れてこられた？
- 17 スペイン語を話す移民のことを何という？
- 18 なぜ、移民として入ってくる？
- 19 多くの人種や民族がすんでいる国のことを
- 20 北アメリカ州で進行されている主な宗教は？

2 産業 地図2・地図3を見て答えよ

地図2「アメリカの農業区分図」



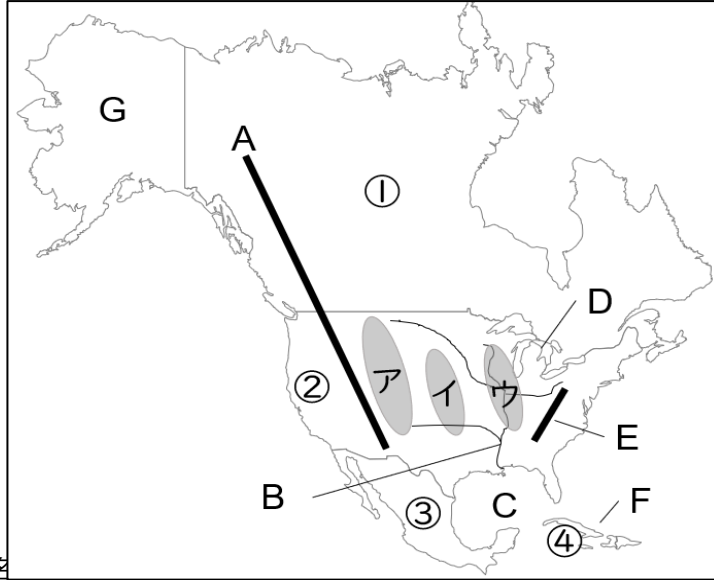
地図3「アメリカの工業・都市・工業地域」



- 23 アメリカは世界最大の食料輸出国のため、なんと呼ばれる？
- 24 各地域の気候や地形に適した農産物が集中的に栽培する農業のやり方は？
- 25 広大な農地を大型機械を使用して少ない労力で行う農業のことは？
- 26 遺伝子レベルで品種改良をする技術
- 27 アメリカの農業の特色を「市場・広大・労働力・大型機械」の語句で説明
- 28 図2のABDFIの地域で行われている農業は？
- 29 CとEは共通した農産物が栽培されている。なにか？
- 30 図2の西経100度の線は何を表す？
- 31 Hで生産されている代表的な果実は？
- 32 Hの気候は？
- 33 先端技術産業中心の発展がめざましい図3の37°南の地域一帯を何と呼ぶ？
- 34 図3のコンピューターや半導体メーカー、研究所などが千数百社が集中する電子工業地域aはなんと呼ばれている？
- 35 cの地域はアメリカでもっとも古い工業地帯である。ここはなぜ発達したのか。
- 36 世界で最初に流れ作業による自動車の大量生産が行われた都市
- 37 ロケットなどを生産する産業を何というか。また地図3 a～eのどこ？
- 38 石油化学工業がさかんな都市名は？また場所はA～Eのどこ？
- 39 豊かな水力発電を利用してアルミニウム工業や航空機工業が発達した都市
- 40 世界経済の中心地で、国連本部がある街の名と場所をA～Eから
- 41 アメリカではケツ岩層から石油を取り出す技術が実用化された。この石油を？
- 42 2008年に起きたアメリカの企業倒産から始まる世界同時不況
- 43 海外に資金や技術をもちこんで外国籍の子会社や系列会社を多数もち、複数の国で活動する国際的企業
- 44 アメリカで生まれた、短時間で注文・飲食できる飲食店
- 45 アメリカから世界に広がった文化で、ファッションの1つ
- 46 アメリカの貿易の特徴を輸入額・輸出額の語句を使って説明

23	世界の食料庫	
24	適地適作	
25	企業的な農業	
26	バイオテクノロジー	
27	市場への出荷を目的として、広大な農地を少ない労働力で大型機械を使用して行う農業	
A	亜熱帯作物	
B	綿花	
D	とうもろこし（・大豆）	
F	酪農	
I	放牧	
29	小麦	
30	年間降水量500ミリの境	
31	オレンジ	
32	地中海性気候	
33	サンベルト	
34	シリコンバレー	
35	例) 五大湖の水運と豊富な鉱産資源が結びついたから。	
36	デトロイト	
37	航空宇宙産業	d
38	ヒューストン	B
39	シアトル	
40	ニューヨーク	E
41	シェールオイル	
42	リーマンショック	
43	多国籍企業	
44	ファストフード	
45	ジーンズ	
46	輸入額が輸出額を上回り、貿易赤字である	

1 自然・歴史・各国

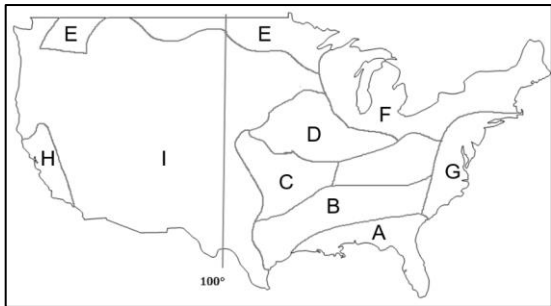


①	
②	
③	
④	
A	山脈
B	川
C	湾
D	湖
E	山脈
F	諸島
G	半島
ア	
イ	
ウ	
4	
5	
6	
7	
8	
9	
10	
11	
12	
13	
14	
15	
16	
17	
18	
19	
18	
19	
20	

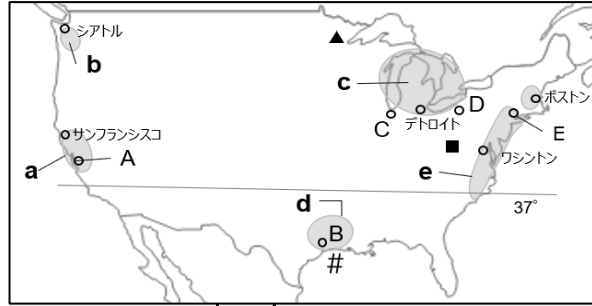
- 1 ①～④の国名
- 2 地形A～G
- 3 ア～ウの名称
- 4 ①国の公用語は英語と何語？
- 5 ①国の面積は世界第何位？
- 6 ①国の首都はどこ？
- 7 ①と②の地域を何アメリカという？
- 8 ③や④の国では主に何語が話されている？
- 7 ①②③の国の間で結ばれた北米自由協定の略称は？
- 8 北米の先住民をなんというか
- 9 アラスカの先住民をなんという？
- 10 ②国の現在の州はいくつ？
- 11 ②国の首都はどこ？
- 12 ②国の面積は世界第何位？
- 13 ②国の人口は世界第何位？
- 14 ①の国の大部分を占めている気候は？
- 15 カリブ海で発生する大型熱帯低気圧
- 16 黒人は、何の目的でアフリカから連れてこられた？
- 17 スペイン語を話す移民のことを何という？
- 18 なぜ、移民として入ってくる？
- 19 多くの人種や民族がすんでいる国のことを
- 20 北アメリカ州で進行されている主な宗教は？

2 産業 地図2・地図3を見て答えよ

地図2「アメリカの農業区分図」



地図3「アメリカの工業・都市・工業地域」



- 23 アメリカは世界最大の食料輸出国のため、なんと呼ばれる？
- 24 各地域の気候や地形に適した農産物が集中的に栽培する農業のやり方は？
- 25 広大な農地を大型機械を使用して少ない労力で行う農業のことは？
- 26 遺伝子レベルで品種改良をする技術
- 27 アメリカの農業の特色を「市場・広大・労働力・大型機械」の語句で説明
- 28 図2のABDFIの地域で行われている農業は？
- 29 CとEは共通した農産物が栽培されている。なにか？
- 30 図2の西経100度の線は何を表す？
- 31 Hで生産されている代表的な果実は？
- 32 Hの気候は？
- 33 先端技術産業中心の発展がめざましい図3の37°南の地域一帯を何と呼ぶ？
- 34 図3のコンピューターや半導体メーカー、研究所などが千数百社が集中する電子工業地域aはなんと呼ばれている？
- 35 cの地域はアメリカでもっとも古い工業地帯である。ここはなぜ発達したのか。
- 36 世界で最初に流れ作業による自動車の大量生産が行われた都市
- 37 ロケットなどを生産する産業を何というか。また地図3 a～eのどこ？
- 38 石油化学工業がさかんな都市名は？また場所はA～Eのどこ？
- 39 豊かな水力発電を利用してアルミニウム工業や航空機工業が発達した都市
- 40 世界経済の中心地で、国連本部がある街の名と場所をA～Eから
- 41 アメリカではケツ岩層から石油を取り出す技術が実用化された。この石油を？
- 42 2008年に起きたアメリカの企業倒産から始まる世界同時不況
- 43 海外に資金や技術を持ちこんで外国籍の子会社や系列会社を多数もち、複数の国で活動する国際的企業
- 44 アメリカで生まれた、短時間で注文・飲食できる飲食店
- 45 アメリカから世界に広がった文化で、ファッションの1つ
- 46 アメリカの貿易の特徴を輸入額・輸出額の語句を使って説明

23		
24		
25		
26		
27		
A		
B		
D		
F		
I		
29		
30		
31		
32		
33		
34		
35		
36		
37		
38		
39		
40		
41		
42		
43		
44		
45		
46		