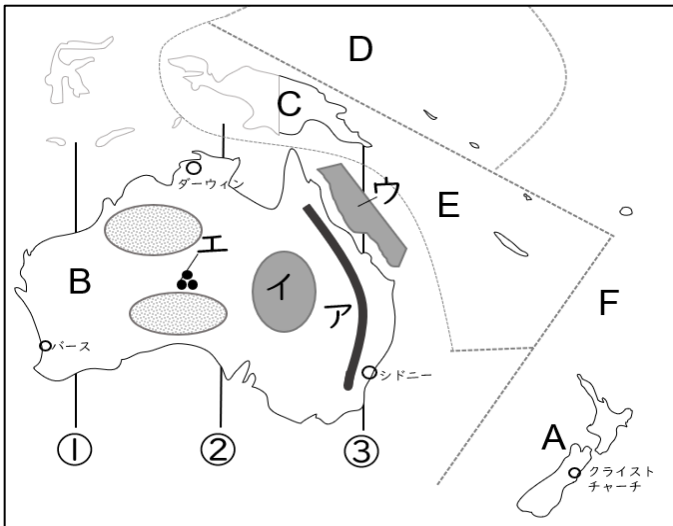
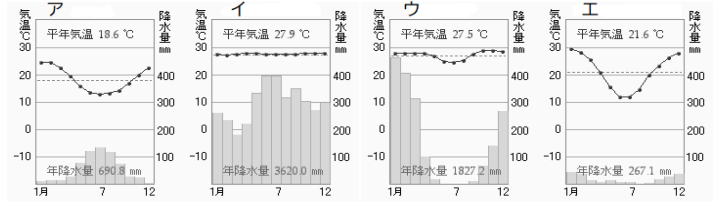


# 地理poiche オセアニア州



雨温図



資料 1



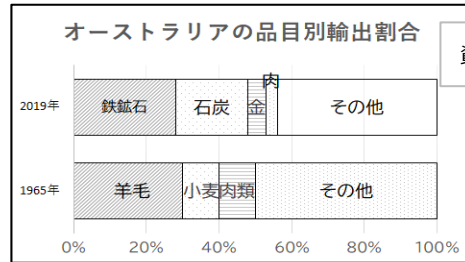
- ア～エの地形。エは観光名所で、巨大な一枚岩の場所
- A～Cの国名
- 小さい島々という意味のDの地域
- 黒い島々という意味のEの地域
- 多くの島々という意味のFの地域
- 日本の標準時子午線（東経135度）は①～③のどれ？
- 地図中の都市ダーウィンからパースへと向かうとき、気候はどのように変化するか、上の雨温図から順番に3つ答えよ。
- 大陸の中央部から西部にかけて人口が少ないのはなぜ？
- オーストラリアの大部分で年間降水量が500mm以下であることから何大陸という？
- 地図中のウは世界最大の何が広がっているか？
- オセアニアの島々は10の堆積と何から形成されている？
- オセアニアの島々の主な収入は何か。
- オーストラリアの先住民を何というか。
- ニュージーランドの先住民を何というか。
- 国旗を見て、なぜこのような共通点があるのか。共通する国の名を挙げて説明しよう
- 資料1の写真のようなニュージーランドの伝統的な踊りを何というか
- ツバルやキリバスはこのままいくと、水没してしまうと言われている。なぜ？
- オーストラリアの首都
- オーストラリアはさまざまな民族が共存し、それぞれの文化を尊重した社会を築いている。これを？
- かつてオーストラリアで行っていた白人以外の移民を制限する政策
- なぜ、その政策をとったのか？



ア	グレートディバイディング山脈
イ	ダイサンセイボンチ 大鑛井盆地（グレートアーテジアン）
ウ	グレートバリアリーフ
エ	ウルル（エアーズロック）
A	ニュージーランド
B	オーストラリア
C	パプアニューギニア
D	ミクロネシア
E	メラネシア
F	ポリネシア
6	②
7	ウ→エ→ア
8	砂漠地帯だから
9	乾燥大陸
10	サンゴ礁 <sup>ショウ</sup>
11	火山の噴火
12	観光
13	アボリジニー
14	マオリ
15	かつてイギリスの植民地だったから
16	ハカ
17	地球温暖化によって海面が上昇しているから
18	キャンベラ
19	多文化社会
20	白豪主義
21	金鉱が発見され、中国系移民が増加したため

- 22 人口が非常に少なく、病院などの公共施設がないところが多い場所を何という？
- 23 そんな地域で急病人が出た時に対応するサービスのこと
- 24 オーストラリア・ニュージーランドでともに飼育が盛んな家畜 2つ
- 25 家畜の飲み水や牧草のかんがいなどに使われている井戸って？
- 26 オーストラリアで羊の飼育が盛んな理由を気候の面から説明しよう

22	アウトバック
23	フライングドクター
24	牛・羊
25	掘り抜き井戸
26	雨が少ない気候が羊の飼育に適しているため

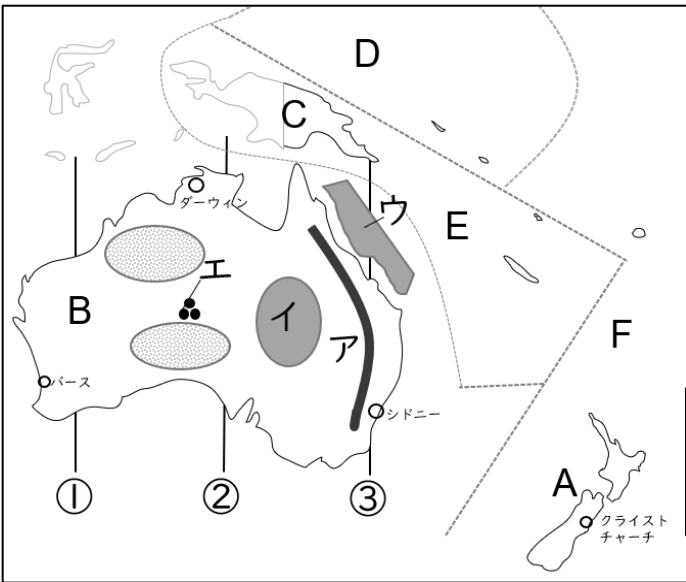


- 27 地図2の●■◎で産出される鉱産資源を答えよ。
- 28 鉱山で見られる表土を取り除き、地上で掘り取る採掘方法
- 29 オーストラリア最大の輸出相手国は、かつてはイギリス。今は？
- 30 内陸部で採掘された石油や天然ガスを輸送するための手段
- 31 資料2を見て、1965年から2015年の間にどのような変化があったのか、説明しよう。【静岡】
- 32 オーストラリアから日本へと輸出されている鉱産資源を順に答えよ（ ） → 石炭→鉄鉱石
- 33 日本からの輸入は（ ）や機械類が多い。
- 34 オセアニアの島々が点在している海洋は？
- 35 美しい自然景観を持つ観光地として発展している地のこと
- 36 日本からオーストラリア、オーストラリアから日本へと観光客が多い理由を2つ。
- 37 アルバイトをしながらオーストラリアで長期滞在する制度
- 38 日本やオーストラリアが加盟するアジア太平洋経済協力会議の略称をアルファベットで
- 39 多文化社会を説明しよう。【鹿児島】
- 40 農業大国ニュージーランドの新たな産業として、近年注目されているものは？
- 41 ポリネシアのトンガで算数の授業に使われている日本伝来のものって？
- 42 オーストラリアの最大の都市。オペラハウスが有名
- 43 ニュージーランドの首都。

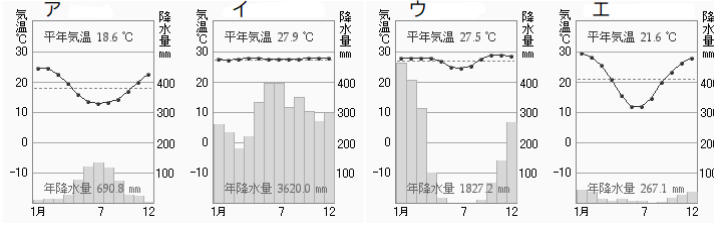
資料2

27	
●	鉄鉱石
■	石炭
◎	ボーキサイト
28	露天掘り
29	中国
30	パイプライン
31	輸出品目の中心が、農産物から鉱産資源へと変化した。
32	液化天然ガス
33	自動車
34	太平洋
35	リゾート地
36	時差があまりないから 季節が逆だから
37	ワーキングホリデー
38	APEC
39	民族や人種などの異なる人々が、互いの文化を尊重し合う社会
40	ワイン
41	そろばん
42	シドニー
43	ウェリントン

# 地理poiche オセアニア州



雨温図



資料 1



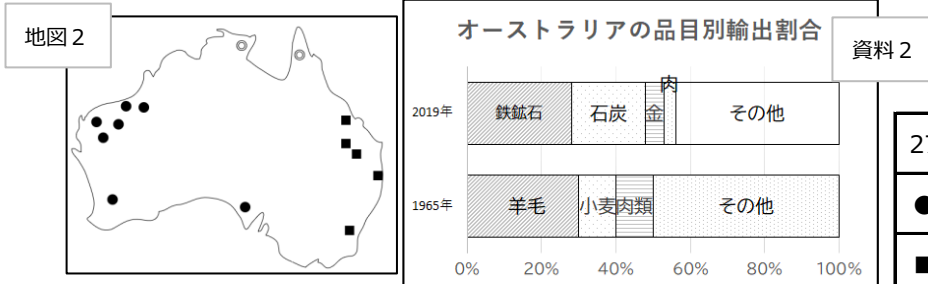
- 1 ア～エの地形。エは観光名所で、巨大な一枚岩の場所
- 2 A～Cの国名
- 3 小さい島々という意味のDの地域
- 4 黒い島々という意味のEの地域
- 5 多くの島々という意味のFの地域
- 6 日本の標準時子午線（東経135度）は①～③のどれ？
- 7 地図中の都市ダーウィンからパースへと向かうとき、気候はどのように変化するか、上の雨温図から順番に3つ答えよ。
- 8 大陸の中央部から西部にかけて人口が少ないのはなぜ？
- 9 オーストラリアの大部分で年間降水量が500mm以下であることから何大陸という？
- 10 地図中のウは世界最大の何が広がっているか？
- 11 オセアニアの島々は10の堆積と何から形成されている？
- 12 オセアニアの島々の主な収入は何か。
- 13 オーストラリアの先住民を何というか。
- 14 ニュージーランドの先住民を何というか。
- 15 国旗を見て、なぜこのような共通点があるのか。共通する国の名を挙げて説明しよう
- 16 資料1の写真のようなニュージーランドの伝統的な踊りを何というか
- 17 ツバルやキリバスはこのままいくと、水没してしまうと言われている。なぜ？
- 18 オーストラリアの首都
- 19 オーストラリアはさまざまな民族が共存し、それぞれの文化を尊重した社会を築いている。これを？
- 20 かつてオーストラリアで行っていた白人以外の移民を制限する政策
- 21 なぜ、その政策をとったのか？



ア	
イ	
ウ	
エ	
A	
B	
C	
D	
E	
F	
6	
7	
8	
9	
10	
11	
12	
13	
14	
15	
16	
17	
18	
19	
20	
21	

- 22 人口が非常に少なく、病院などの公共施設がないところが多い場所を何という？
- 23 そんな地域で急病人が出た時に対応するサービスのこと
- 24 オーストラリア・ニュージーランドでともに飼育が盛んな家畜 2つ
- 25 家畜の飲み水や牧草のかんがいなどに使われている井戸って？
- 26 オーストラリアで羊の飼育が盛んな理由を気候の面から説明しよう

22	
23	
24	
25	
26	



- 27 地図 2 の ● ■ ◎ で産出される鉱産資源を答えよ。
- 28 鉱山で見られる表土を取り除き、地上で掘り取る採掘方法
- 29 オーストラリア最大の輸出相手国は、かつてはイギリス。今は？
- 30 内陸部で採掘された石油や天然ガスを輸送するための手段
- 31 資料2を見て、1965年から2015年の間にどのような変化があったのか、説明しよう。【静岡】
- 32 オーストラリアから日本へと輸出されている鉱産資源を順に答えよ ( ) → 石炭→鉄鉱石
- 33 日本からの輸入は ( ) や機械類が多い。
- 34 オセアニアの島々が点在している海洋は？
- 35 美しい自然景観を持つ観光地として発展している地のこと
- 36 日本からオーストラリア、オーストラリアから日本へと観光客が多い理由を 2つ。
- 37 アルバイトをしながらオーストラリアで長期滞在する制度
- 38 日本やオーストラリアが加盟するアジア太平洋経済協力会議の略称をアルファベットで
- 39 多文化社会を説明しよう。【鹿児島】
- 40 農業大国ニュージーランドの新たな産業として、近年注目されているものは？
- 41 ポリネシアのトンガで算数の授業に使われている日本伝来のものって？
- 42 オーストラリアの最大の都市。オペラハウスが有名
- 43 ニュージーランドの首都。

27	
●	
■	
◎	
28	
29	
30	
31	
32	
33	
34	
35	
36	
37	
38	
39	
40	
41	
42	
43	